

mutlu Telafi Avcısı

1. sınıftan 2. sınıfa
geçenler için.




İndir, Çıktı Al, Uygula

Yeni Nesil

TELAFİ

AVCISI



Mutlu Yayıncılığın hediyesidir. Güle güle kullanın.



MUTLU YAYINCILIK



- Verilen kutulara alfabemizdeki harfleri sırayla yazınız. Sonra gizli cümlede ne yazdığını sayılara denk gelen harfleri yazarak bulunuz.

1 A	2 B	3	4 Ç	5	6	7	8	9	10	11	12
13	14	15	16	17	18	19	20				
21	22	23	24	25	26	27	28	29			

10	6	21

8	26	17

5	12	23	15	6	21	12	16	12

12	14	12

14	6	29

7	11	21	4	1	15	1	21	11	16



TEST 1 Harf Bilgisi - Hece Bilgisi

2

Adı: _____

Tarih: ___/___/___

Puan: _____



1. Aşağıdakilerden hangisinin harf sayısı daha fazladır?

- A kelebek B timsah
 C köpek

2. Aşağıdakilerden hangisinde "ma" hecesi **yoktur**?

- A masa B makas
 C mantı

3. Hangi sözcük hecelerine **yanlış** ayrılmıştır?

- A pap - at - ya
 B or - man
 C çi - ko - la - ta

4.

d f

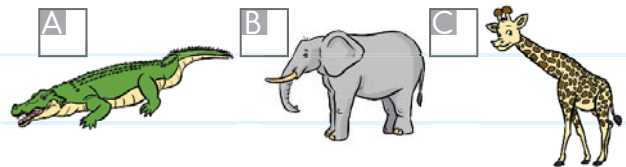
Yukarıda boş bırakılan kutulara alfabeğe göre sırasıyla hangi harfler gelmelidir?

- A ç e B c g
 C b e

5. Aşağıdakilerden hangisi 5 harften oluşan bir sözcüktür?

- A kartal B etek
 C petek

6. Aşağıdaki hayvanlardan hangisinin adı tek hecelidir?



1

Sözcük Bilgisi

Tarih: ___/___/___

Puan: _____



- Aşağıdaki sözcüklerin anlamlarını bulmacaya yazınız.

1. Toprağın derinliklerine kök salan, uzun ömürlü bitki

2. Bir kimsenin doğup büyüdüğü, üzerinde yaşadığı toprak

3. Çocuklu kadın

4. Günlük çıkan yazılı basın

5. Yeni doğmuş çocuk.

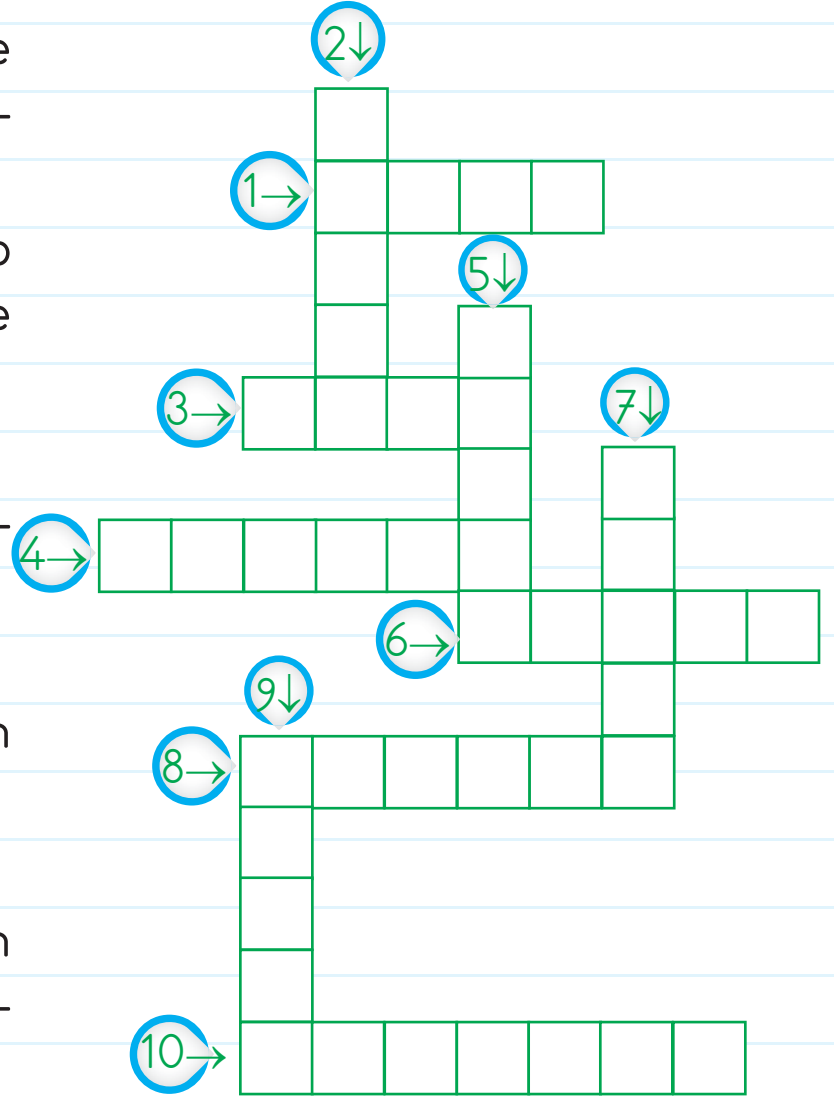
6. Yazı yazmaya yarayan araç

7. İşitme organımız

8. Görme bozukluğu olan kişilerin daha iyi görmesini sağlayan araç

9. Dünyamızı ısıtan, gezegenlere ısı ve ışık veren gök cismi

10. Yağmurda ıslanmamak için kullandığımız araç



TEST 2

Sözcük Bilgisi - Satır Sonuna Sığmayan Sözcüklerin Yazımı - Sözcüklerin Sözlük Sırası

2

Adı: _____

Tarih: ___/___/___

Puan: _____



1. Aşağıdakilerden hangisi hem hece, hem de sözcüktür?

A ler

B kol

C li

2. "Sevgi kahvaltısını yaptı."
Yukarıdaki cümle kaç sözcükten oluşur?

A 3


B 5

C 8

3. Hangi sözcük satır sonunda doğru ayrılmıştır?

Aark-
adaşlıkBcum-
huriyetCbal-
oncu

4. Aşağıdakilerden hangisinin adı satır sonunda bölünmez?



5. Hangi seçenekte alfabemizin ikinci ve sonuncu harfleriyle başlayan sözcükler verilmiştir?

A arı vapur

B bebek zeytin

C düdük kiraz

6. taşıt

Yukarıdaki sözcük hangisini çağırıştırılmaz?

A otomobil B tren

C tavşan

1

Cümle Bilgisi

Tarih: ___/___/___

Puan:



- Aşağıdaki sözcükleri eksik olan kısımlarıyla eşleştirip, cümle oluşturunuz.

Kapının



düğmesi nerede?

Gömleğinin



çiçek kurumuş.

Kitabımın



anahtarını unutmuşum.

Saksıdaki



camı kırılmış.

Gözlüğümün



kuşlara bakıyorum.

Kafesteki



sayfaları kopmuş.

Kümedeki



balıklar renk renk.

Akvaryumdaki



teli kopmuş.

Gitarımın



tavuklara yem verdim.

Öğretmen



bahçede oyun oynuyor.

Çocuklar



toka ile topladım.

Saçımı



sınıfta ders anlatıyor.

TEST 3 Cümle Bilgisi

2

Adı: _____

Tarih: ___/___/___

Puan: _____



1. Ahmet okula
2. Oynuyorum
3. Sinemaya gideceğiz

Yukarıdakilerden hangi numara ile gösterilen cümledir?

- A 1 ve 2
 B 2 ve 3
 C 1 ve 3

2. Erkan, bisiklete

_____ .



Yukarıdaki boş bırakılan yere hangi sözcük yazılabilir?

- A biniyor
 B yazıyor
 C yapıyor

3.

önce	kitap
okurum	yatmadan

Yukarıdaki sözcüklerle yazılabilecek anlamlı ve kurallı cümle hangisidir?

- A Yatmadan önce okurum kitap.
 B Okurum yatmadan önce kitap.
 C Yatmadan önce kitap okurum.

4.

- Arkadaşım oyun
- ▲ Kitap okuyorum
- ★ Hikâye kitabımı

Yukarıdaki sözcük gruplarından hangisi cümledir?

- A ● B ▲ C ★

1

Görsel Okuma

Tarih: ___/___/___

Puan: _____



- Önce cümleleri okuyunuz. Sonra cümlelerle resimleri eşleştiriniz. Doğru harfleri kutulara yazıp, yukarıdan aşağıya okuyarak şifreyi çözünüz.

 Mavi kazağımı giyiyorum.

 Çiçekleri suladım.






 Kelebek çiçeğe konmuş.

 Kitabımı okuyorum.

 Kitapları masaya koydum.

 Saksıdaki çiçekler çok güzel.

 Tavşan havuç bulmuş.

 Kedim, yumakla oynuyor.


2

Özel Adlar

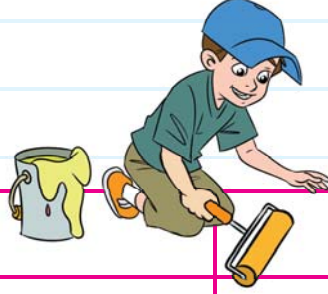
Öğrenilmesi İsteğe Bağlıdır.

Tarih: ___/___/___

Puan: _____



- Özel adların bulunduğu kutuları boyayınız.



ÇANTA	AĞAÇ
KİTAP	NASREDDİN HOCA
TÜRKİYE	KALEM
ÇOCUK	ANNE
OKUL	İZMİR
KEDİ	CUMHURİYET
ANKARA	AİLE
CEREN	ATATÜRK
ALMANYA	TAVŞAN
TEYZE	ZEYNEP



TEST 4 Görsel Okuma - Özel Adlar - Tekil Ad ve Çoğul Ad

1

Adı: _____

Tarih: ___/___/___

Puan: _____




1. Yandaki görseli ifade eden cümle hangisi olabilir?



- A Emre ile Ela yağmurda yürüyor.
- B Emre ile Ela sıcak bir günde yürüyüş yapıyor.
- C Emre ile Ela spor yapıyor.

3. Aşağıdakilerden hangisi birden çok varlığı ifade eder?



2. "Arkadaşlarımla parkta oynuyorum."

Yukarıdaki cümlenin görseli hangisi olabilir?



4. • Çocuğa kıvrıcık saç çiz.
• Kıvrıcık saçlı kıza gülen bir yüz çiz.

Yukarıdaki yönergelere göre hangisi doğrudur?



5. • Ağaçta 7 tane kuş var.
• Ağacın sağında iki tane küçük ağaç, 4 tane de çiçek var.

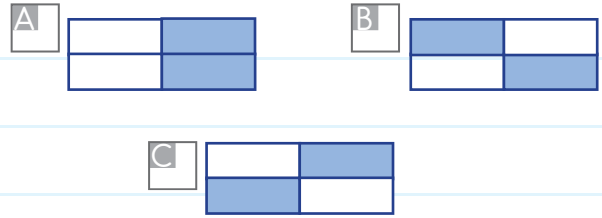
Yukarıdaki ifadelerin görseli hangisi olabilir?



7.

güller	fular
yular	çocuklar

Yukarıdaki tabloda tekil adlar boyanırsa tablonun görünümü nasıl olur?



6. Aşağıdaki cümlelerin hangisinde çoğul ad **yoktur**?

- A) Pazardan meyve ve sebzeler aldı.
 B) Güler Hanım çok güzel kurabiye yapar.
 C) Annesinin aldığı çorapları giydi.

8. Aşağıdaki cümlelerin hangisinde çoğul isim **yoktur**?

- A) Masadaki kitapları kitaplığa koydu.
 B) Yatmadan önce kitap okudum.
 C) Çantasına defterlerini ve kalemlerini yerleştirdi.

1

Şiir Bilgisi

Tarih: ___/___/___

Puan: _____



- Aşağıdaki şiirde eksik bırakılan sözcükleri renkli kutulardan bularak şiiri tamamlayınız. Kelimelerin yanında verilen harfleri, sıra ile yazarak şifreyi çözüp, şiirin başlığını bulunuz.

1	2	3	4	5	6	7	8	9

-
- Bir yılda tam mevsim var.
Hepsi de ayrı resim.
 - Gel birlikte
 - Takalım birer
 - İlkbahar, yaz,, kış.
 - Kış gelince yağar.
Haydi gel evine!
 - Her tarafta var.
 - Ovada meler.
 - her yerde şenlik var.
İlkbaharda yeşillik,
 - hüznün var.



S | sonbahar

L | kuzu

M | dört

E | sayalım

İ | kar

R | Sonbaharda

M | soğuk

E | Yazın

V | isim

2

Olayların Oluş Sırası

Tarih: ___/___/___

Puan: _____



- Cümleleri karışık olarak verilen olayları numaralandırarak oluş sırasına göre sıralayınız.

- Fidanı bahçeye dikdik.
- Önce toprağı kazdık.
- 1 Babam çiçekçiden fidan aldı.
- En sonunda birlikte fidana su verdik.



- Elini ve yüzünü yıkadı.
- Yemekten sonra dişlerini fırçaladı.
- Okula gitmek için servise bindi.
- Melih sabah erkenden kalktı.
- Kahvaltısını yaptı.



- Annem ile havuçlu kek yaptık.
- Annemle kek yapmaya karar verdik.
- Kek malzemelerini aldık.
- Kek için un ve yumurta yoktu.
- Annemle birlikte markete gittik.



TEST 5 Şiir Bilgisi - Olayların Oluş Sırası

1

Adı: _____

Tarih: ___/___/___

Puan: _____



12 Ay

Yılın ilk ayı ocak,
 Kar yağar kucak kucak.
 İkinci ay şubattır;
 Soğuğu pek berbattır.
 Mart kapıdan baktırır,
 Kazma kürek yaktırır.
 Nisanda çiçek açar;
 Sevinçle kuşlar uçar.
 Mayısta kiraz yeriz.
 Kuzuları severiz.
 Haziranda yaz başlar.
 Dağılır arkadaşlar.
 Temmuz yakar, kavurur;
 Ekinleri öldürür.
 Ağustos harman ayı,
 Sevinir köylü dayı.
 Eylülde yoktur sözüm;
 Getirir incir, üzüm.
 Ekim ayı gelince,
 Kapılırız sevince.
 Kasımda yağmur bol,
 Üşüme dikkatli ol.
 Aralık yılın sonu,
 Soğuktur eni konu.
 Bu on iki arkadaş,
 Bizlere olur yoldaş.
 Hepsi güzel, sevimli,
 Çalışana verimli.
 Tembeller ay, gün seçer;
 Ömürleri boş geçer.
 Rakım ÇALAPALA

İlk dört soruyu yanda verilen
 şiire göre cevaplayınız.

1. Aşağıdaki aylar-
 dan hangisi resmi
 verilen araçları
 yaktırır?



- A Ocak B Mart
 C Temmuz

2. Aşağıdaki görsellerde ve-
 rilen olaylardan hangisi
 farklı bir ayda yapılır?

A



B



C



2

Şiir Bilgisi - Olayların Oluş Sırası

3. Aşağıdakilerden hangisi eylül ayının getirdiklerinden **değildir**?

A



B



C



4. Şaire göre yandaki durum ile en çok hangi ayda karşılaşılır?



A

Ocak

B

Nisan

C


Kasım

5. Aşağıdaki resimlerin hangisindeki olay diğerlerinden sonra olmuştur?


A



B



C



6. Aşağıdaki olaylardan hangisi ilk önce olmuştur?

A

Beren geçen yıl anaokuluna gitti.

B

Beren bu yıl ilkokula başladı.

C

Beren geçen hafta tiyatroya gitti.

7. Bu bayram bizlere,
Atamızdan armağan.
Sevinelim çocuklar;
.....

Yukarıdaki şiirin son mısrasına hangisi yazılmalıdır?

A

Bugün Ramazan Bayramı

B

Çiçeklendi kırlar, bayırlar

C

Bugün 23 Nisan

1

Yazım Kuralları

Tarih: ___/___/___

Puan:



- Aşağıda verilen bilgilerden doğru olanların başına "D", yanlış olanların başına "Y" yazınız.
- Şehir adlarının ilk harfi küçük yazılır.
- Millî bayram adlarının ilk harfleri küçük yazılır.
- Şiir dizelerinin ilk harfleri her zaman büyük yazılır.
- İnsan isimleri küçük harfle başlar.
- Başlıklar küçük harflerle yazılır.
- Kedimin adını cümle içinde kullanırsam, ilk harfini büyük yazmalıyım.
- Okulumuzun adını yazarken ilk harflerini büyük yazmalıyız.
- "İngilizce" kelimesinin ilk harfi cümle içinde daima büyük harfle yazılır.
- Ülke adlarının ilk harfi daima büyük yazılır.
- Aşağıdaki sözcüklerin doğru yazılışlarını boşluklara yazınız.



övretmen



.....



tırafik



.....



gazte



.....



pirenses



.....

2

Noktalama İşaretleri

Tarih: ___/___/___

Puan:



- Aşağıdaki cümlelerin sonuna getirilmesi gereken noktalama işaretlerini örnekteki gibi işaretleyiniz.

- Tatilde teyzemlere gittik (.) - (,) - (!)
- Koşun, yangın var (.) - (?) - (!)
- Sakla samanı, gelir zamanı (.) - (?) - (!)
- Of, bu kadar olmaz (.) - (?) - (!)
- Tavşanlar ne ile beslenir (.) - (?) - (!)
- Ödevlerimi yaptım (.) - (?) - (!)
- Güneş girmeyen eve doktor girer (.) - (?) - (!)
- Of, çok sıcak (.) - (?) - (!)
- Niçin bana haber vermedin (.) - (?) - (!)
- Hangi kitabı okuduğunu bilmiyorum (.) - (?) - (!)
- Çantama kitaplarımı, defterlerimi ve kalemlerimi yerleştirdim (.) - (?) - (!)



TEST 6 Noktalama İşaretleri - Yazım Kuralları

1

Adı: _____

Tarih: ___/___/___

Puan: _____



1. Yandaki işaret hangi cümlenin sonuna **gelemez**?



- A Okula niçin gelmedin
 B Sabahları süt içerim
 C Orada ne yapıyorsunuz

3. Aşağıdaki sözcüklerden hangisi **yanlış** yazılmıştır?

- A herkez
 B öğretmen
 C şoför

2. Eyvah ● Defterim yırtıldı ■

Yukarıdaki cümlede ● yerine ve ■ yerine hangi noktalama işaretleri getirilmelidir?

- | | |
|-----------------------------------|---------------------------------------|
| ● | ■ |
| _____ | _____ |
| <input type="checkbox"/> A Virgöl | <input type="checkbox"/> Soru işareti |
| <input type="checkbox"/> B Virgöl | <input type="checkbox"/> Nokta |
| <input type="checkbox"/> C Ünlem | <input type="checkbox"/> Nokta |

4. Hangi cümlede **yanlış** bir noktalama işareti kullanılmıştır?

- A Hangi hikâye kitabını okuyorsun.
 B Ay, elim kanıyor!
 C Marketten peynir, zeytin ve meyve aldım.

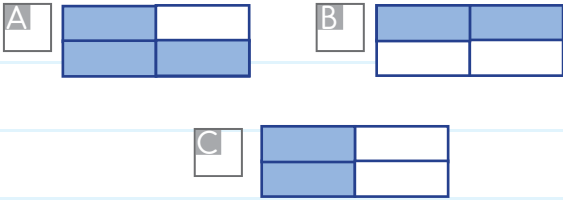
2

Noktalama İşaretleri - Yazım Kuralları

5.

kirpik	deyerli
böyle	picama

Yukarıdaki tabloda doğru yazılan sözcükler boyanır-
sa şeklin görüntüsü hangisi
olur?



6. "Bir bebeğin yalnız bırakılması çok yanlış."

Yukarıdaki cümlede hangi
sözcüğün yazımı, yazım
kurallarına **uymaz**?

- A yanlış B yalnız
C bırakılması

7. Aşağıdaki başlık yazımla-
rından hangisi doğrudur?

- A Kırmızı Başlıklı Kız
B Kırmızı BAŞLIKLİ kız
C Kırmızı başlıklı kız

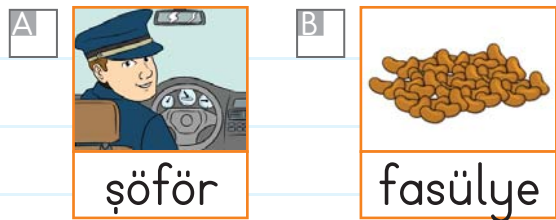
8. Aşağıdaki noktalama işa-
retlerinden hangisi cümle-
nin sonuna **gelemez**?

- A , B ? C .

9. Kesme işareti, hangi seçe-
nekte doğru kullanılmıştır?

- A Yelizi'n B Yeli'zin
C Yeliz'in

10. Aşağıdaki sözcüklerden
hangisi doğru yazılmıştır?





- Aşağıdaki resmi inceleyiniz. Resimle ilgili problemleri çözünüz.



1. Resimdeki arıların 5 tanesi yuvalarına giderse kaç arı kalır?

Çözüm:

2. Palyaçonun balonları 20 balondan kaç eksiktir?

Çözüm:

3. Ağaçtaki kuşların 4 tanesi uçarsa geriye kaç kuş kalır?

Çözüm:

4. Tavuklar civcivlerden kaç eksiktir?

Çözüm:

5. Göldeki 5 kurbağanın 2 tanesi karaya çıkarsa karada kaç kurbağa olmuş olur?

Çözüm:

6. Balıklar kurbağalardan kaç eksiktir?

Çözüm:

7. Arıların sayısı kuşların sayısından kaç fazladır?


Çözüm:

2



Paralarımız

Tarih: ___/___/___

Puan: _____







- Merve Hanım ve kızı alışverişe çıktı. Aşağıdaki soruları vitrindeki ürünlerin fiyatlarına göre cevaplayınız.

-  +  = _____ lira

- Bir elbisenin fiyatı kadar olan paranın bulunduğu kumbarayı işaretleyiniz.



-  +  = _____ lira eder.

-  +  = _____ lira eder.

- Bir ayakkabının fiyatı, bir gömleğin fiyatından ne kadar pahalıdır?

TEST 1 Çıkarma İşlemi Problemleri - Paralarımız

1

Adı: _____

Tarih: ___/___/___

Puan: _____



1. Minibüste 12 bayan 7 erkek yolcu vardır. Bayan yolcular erkek yolculardan kaç fazladır?

A 4 B 5 C 6

2. Tanesi 3 lira olan kalemde 2 tane alan Merve satıcıya 10 lira vermiştir. Merve para üstü olarak hangisini almıştır?



3. Tabagımdaki 18 kurabiye'nin 5 tanesini yedim. Tabakta kaç kurabiye kalmıştır?

A 13 B 15 C 12

4. Ablam 14 yaşındadır. Ben ablamdan 8 yaş küçüğüm. Benim yaşım kaçtır?

A 4 B 5 C 6

5. Sınıfımızda 12 kız öğrenci, kız öğrencilerden 5 fazla erkek öğrenci vardır. Sınıfımızda erkek öğrenci sayısı kaçtır?

A 15 B 16 C 17

6.



Harun'un kumbarasından çıkan para miktarı kaç liradır?

A 17 B 16 C 15

2

Çıkarma İşlemi Problemleri - Paralarımız

7. Arda 1. gün 6 sayfa, 2. gün 8 sayfa, 3. gün 4 sayfa okumuştur. Arda üç günde kaç sayfa kitap okumuştur?

- A 14 B 16 C 18

8. Bir düzine kalemin 3 tane-sini arkadaşşıma verdim. Kaç kalemim kalmıştır?

- A 8 B 9 C 10

9.



Yukarıdaki kitabı alan Nehir satıcıya 20 lira verdi. Satıcı kaç lira para üstü verir?

- A 7 B 15 C 12

10. Erdal, ablasından 5 yaş kü-çüktür. Ablası 11 yaşında ol-duğuna göre, Erdal kaç ya-şındadır?

- A 6 B 16 C 20

11. Bir minibüste 18 yolcu var-dır. Durakta 6 yolcu inerse minibüste kaç yolcu kalır?

- A 12 B 13 C 14

12. Murat'ın cüz-danında yan-daki para mik-tarı kadar vardır.



Murat parasının 7 lirası ile kalemlik aldı. Murat'ın kaç li-rası kaldı?

- A 10 B 11 C 12

1

Kesirler

Tarih: ___/___/___

Puan: 

- Doğru olanlar için "D" harfini, yanlış olanlar için "Y" harfini işaretleyiniz.

- | | | |
|---|---|--|
| D | Y | 2 yarım elma ve 1 bütün elma, 3 bütün elma eder. |
| D | Y | Yarısı 8 olan sayının tamamı 16'dır. |
| D | Y | Tamamı 8 lira olan paranın yarısı 4 liradır. |
| D | Y | 2 yarım armut, 1 bütün armut eder. |
| D | Y | 4 yarım limon, 3 tam limon eder. |
| D | Y | 6 yarım ekmek, 3 tam ekmek eder. |

- Aşağıdaki meyveler bütün ise "Bütün", yarım ise "Yarım" bölümündeki harfi yuvarlak içine alınız. Harfleri sırayla yazarak şifreyi çözünüz.

	Bütün	Yarım
	B	K
	T	A
	Ş	U
	L	A
	İ	R
	İ	M

ŞİFRE:

2

Kesirler

Tarih: ___/___/___

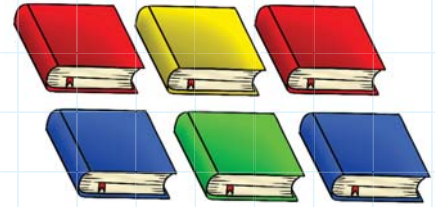
Puan: 

● Problemleri çözüünüz.

1. 8 kalemin yarısı kaç kalem eder?




2. Sinem 6 kitabının yarısını arkadaşına verirse, arkadaşının kaç kitabı olur?

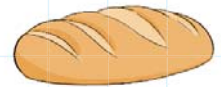


3. Bir günde bir bardak süt içen Murat, 5 günde kaç yarım bardak süt içer?

4. Annem 10 yarım portakaldan meyve suyu hazırladı. Annem meyve suyu için kaç portakal kullanmıştır?



5. Bir kişi günde yarım ekmek yerse, 6 günde kaç ekmek tüketir?



6. Yarısı 5 olan sayının 10 fazlası kaçtır?

1

Zaman Ölçme

Tarih: ___/___/___

Puan: _____



- Aşağıdaki boşlukları doldurunuz.

1 hafta _____ gündür.

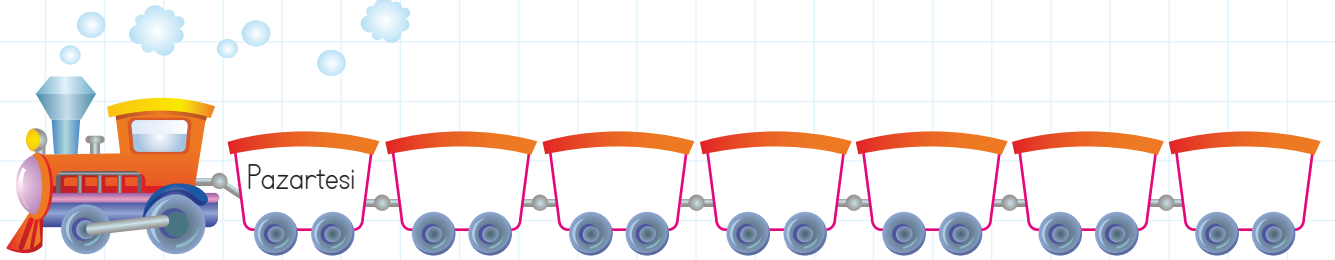
1 ay _____ gündür.

1 yıl _____ haftadır.

1 yıl _____ mevsimdir.


1 yıl _____ aydır.

- Haftanın günlerini sırayla trenin vagonlarının içine yazınız.



- Hafta sonu _____ ve _____ günlerinden oluşur.
- Yılın aylarını verilen boşluklara yazınız.

1. ay	2. ay	3. ay	4. ay	5. ay	6. ay
<input type="text"/>	<input type="text"/>	<input type="text"/>	<input type="text"/>	<input type="text"/>	<input type="text"/>
7. ay	8. ay	9. ay	10. ay	11. ay	12. ay
<input type="text"/>	<input type="text"/>	<input type="text"/>	<input type="text"/>	<input type="text"/>	<input type="text"/>



2

Zaman Ölçme

Tarih: ___/___/___

Puan: 

● Problemleri çözüünüz.

1. Bugün günlerden çarşamba ise 2 gün sonra günlerden hangisidir?

2. Bugün ayın 17'si ise bir hafta sonra ayın kaçı olur?

3. Bugün günlerden çarşamba ise 3 gün sonra hangi gündür?

4. Akrep 4'te, yelkovan 12'de ise saat kaçtır?

5. 2 hafta kaç gündür?

6. 1 yıl 5 ay toplam kaç aydır?

6. Dün günlerden pazar ise yarın günlerden hangisidir?



1

Zaman Ölçme

Tarih: ___/___/___

Puan: 

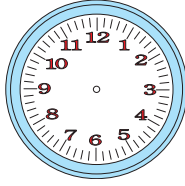
- Aşağıdaki saatlerin kaç olduğu altlarında verilmiştir. Saat kadranında akrep ve yelkovan çizerek gösteriniz.



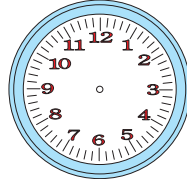
yelkovan




akrep



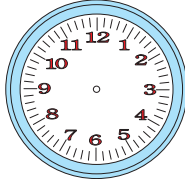
Saat: 3




Saat: 7




Saat: 8




Saat: 10



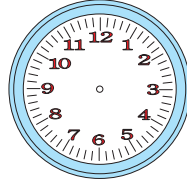
Saat: 2




Saat: 4




Saat: 11




Saat: 6



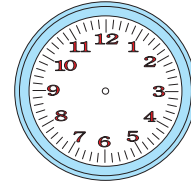
Saat: 9



Saat: 1



Saat: 5



Saat: 12

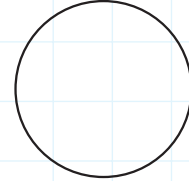
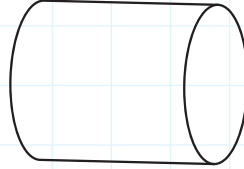
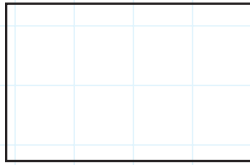
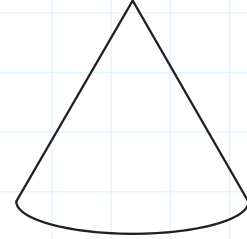

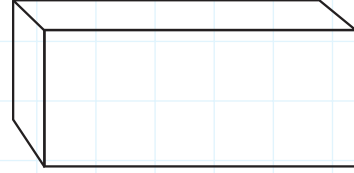

2

Geometrik Şekiller

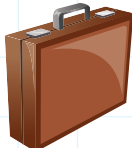

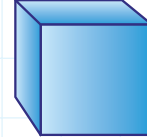
Tarih: ___/___/___

Puan: 

- Aşağıdaki geometrik cisimlerden oluşturulan kedinin parçalarını aynı renklere boyayınız.



- Aşağıdaki nesnelere benzer geometrik cisimler ile eşleştiriniz.



1

Örüntü

Tarih: ___/___/___


Puan: _____



- Aşağıdaki örüntülerin kurallarını belirleyip, altlarına yazınız.

1 1 2 2 3 3 1 1 2 2 3 3


Kural: _____



Kural: _____




Kural: _____



Kural: _____



Kural: _____



Kural: _____

2

Örüntü

Tarih: ___/___/___

Puan:



● Aşağıdaki örüntüleri 2 adım devam ettiriniz.

- _____
- _____
- _____
- _____

● Her sırada örüntüyü bozan şekli bularak çember içine alınız.

-
-
-
-
-

TEST 2 Kesirler - Zaman Ölçme - Geometri

1

Adı: _____

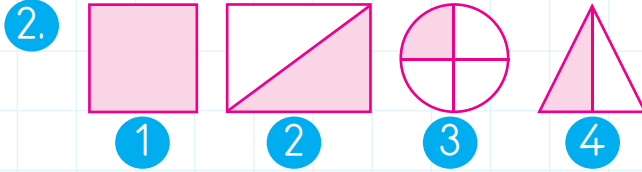
Tarih: ___/___/___

Puan: _____



1. 8 tane yarım karpuz kaç bütün karpuz eder?

A 3 B 4 C 5



Yukarıdaki şekillerden hangilerinin yarısı boyanmıştır?

A 1 ve 2 B 2 ve 3
 C 2 ve 4

3. 3 bütün elma kaç yarım elma eder?

A 10 B 8 C 6

4. Hangi seçenekte tam meyve vardır?



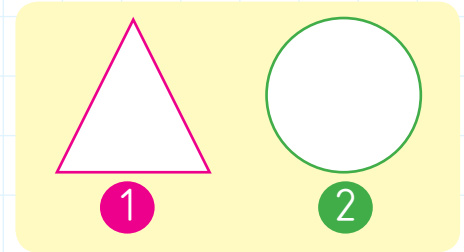
5. Oyun oynamama 1 saat var.



Hangi seçenekteki saat Hakan'ın oyun oynayacağı saati gösterir?



6.



Yukarıdaki geometrik şekille ilgili hangi ifade **yanlıştır**?


- A 1. görselde 3 kenar, 3 köşe vardır.
 B 2. görseldeki şeklin kenar sayısı 2'dir.
 C 2. görseldeki şeklin kenar ve köşesi yoktur.

2

Kesirler - Zaman Ölçme - Geometri

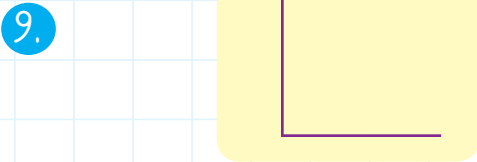
7. Saat 8.30'da okula gidiyorum.

Hangi saat Emre'nin okula gittiği zamanı gösterir?

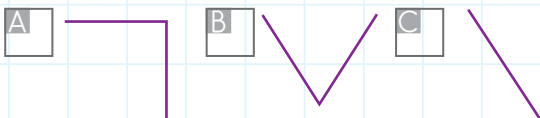


Yukarıdaki şekillerin her biri iki eş parçaya bölünürse kaç yarım oluşur?

- A 5 B 10 C 12



Yukarıdaki şekil hangisi ile tamamhanırsa üçgen oluşur?



10. Aşağıda verilenlerden hangisi yanlıştır?

- A 4 yarım, bir bütün 3 bütün limon eder.
 B 10 yarım ekmek, 6 bütün ekmek eder.
 C 6 yarım elma, 3 bütün elma eder.



Yukarıdaki geometrik şekillerin ortak özelliği değildir?

- A İkisinin de köşesi yoktur.
 B İkisinde 4 köşesi vardır.
 C İkisinde 4 kenarı vardır.

12. Bir günde 3 bütün ekmek yiyen bir ailede 2 günde kaç ekmek tüketilir?

- A 5 B 6 C 8

1

Veri - Tablo

Tarih: ___/___/___

Puan: _____

















- Aşağıdaki boşlukları tabloda verilen bilgilere göre doldurunuz.

Tablo: En Çok Sevilen İçecekler				
Sevilen İçecekler				
	Aran	Meyve suyu	Limonata	Süt
Öğrenci Sayısı	6	5	17	6

- En çok sevilen içecek: _____
- En az sevilen içecek: _____
- Eşit sayıda öğrencinin sevdiği içecekler: _____ ve _____.
- Limonata seven öğrenciler _____ kişidir.
- Limonata sevenler, süt sevenlerden _____ kişi fazladır.

- Öğrenciler sevdikleri meyveleri söylemişler. Buna göre tabloyu doldurunuz.

- Naz: 
- Emre: 
- Nil: 
- Semra: 
- Fatih: 
- Can: 
- Ela: 
- Elif: 
- Sinan: 
- Ömer: 
- Cemil: 
- Canan: 

Sevilen Meyveler	
Meyveler	Kişi Sayısı
	
	
	
	

2

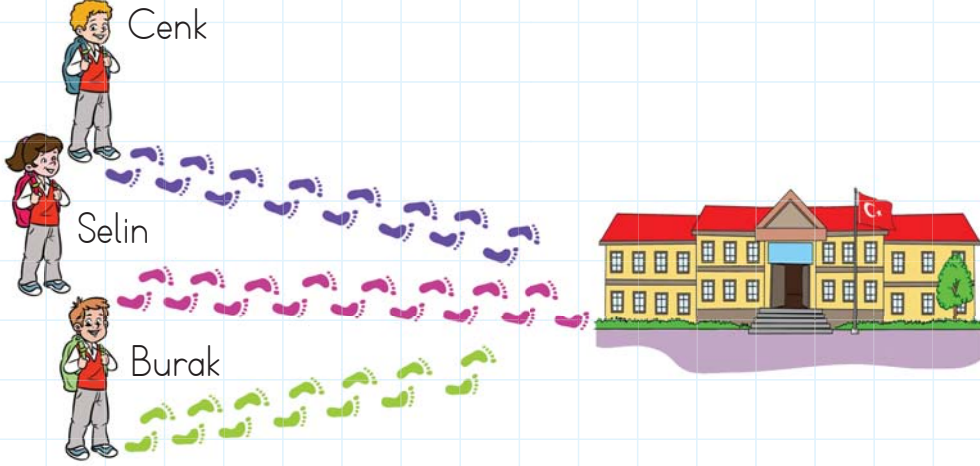
Uzunlukları Ölçme

Tarih: ___/___/___

Puan:



- Çocukların okula ulaşmak için attıkları adım sayıları farklı renkte ayaklarla gösterilmiştir. Soruları aşağıdaki görsele göre cevaplayınız.




1. Hangi çocuğun okula olan mesafesi en uzundur?

2. Aynı anda yola çıkarlarsa hangisi okula en erken gider?

3. Selin kaç adımda okula gider?

4. Cenk ile Burak'ın okula ulaşmak için attıkları adım sayılarının farkı kaçtır?

5. Çocukların okula olan mesafelerini en yakın olandan, en uzak olana doğru sıralayınız. En yakına 1, en uzak olana 3 yazınız.



1

Sıvıları Ölçme

Tarih: ___/___/___

Puan:




- Aşağıdaki kapları alabilecekleri sıvı miktarına göre en az olana 1 yazarak başlayıp, sıralayınız.







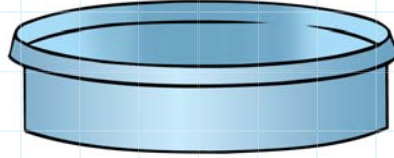




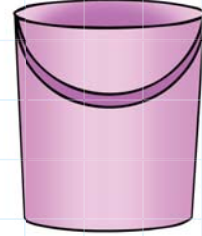


- Aşağıdaki kapların her birine eşit miktarda su dökersek hangi kaptaki su seviyesi daha yüksek olur?







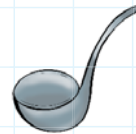




- Aşağıdaki kaplardan hangisi daha az su alır?









2


Sıvıları Ölçme

Tarih: ___/___/___

Puan:



- Aşağıdaki sıvılar ile miktarlarını eşleştiriniz.



Boş



Yarısı dolu



Dolu

- Aşağıdaki ifadelerden doğru olanlara "D", yanlış olanlara "Y" yazınız.

Bardak, kaşıktan daha fazla sıvı alır.

Kepçe, sürahiden daha fazla sıvı alır.

Bardak ile sürahi eşit miktarda sıvı alır.

Sürahi, bardaktan daha fazla sıvı alır.

Kova, sürahiden daha az sıvı alır.

Bardak, sürahiden daha az sıvı alır.

TEST 3 Veri Toplama - Uzunluk Ölçme - Sıvı Ölçme

1

Adı: _____

Tarih: ___/___/___

Puan: _____



1. Aşağıdaki ifadelerden hangisi yanlıştır?

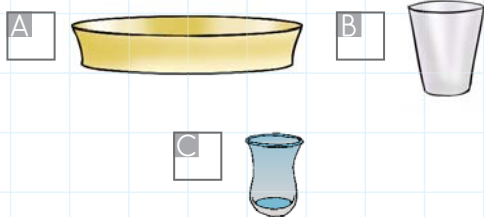
- A Kitabın boyunu karışıkla ölçerim.
- B Kalemın boyunu adım ile ölçerim.
- C Odanın boyunu adım ile ölçerim.

2. Melih benden kısa, Ceren ise benden uzundur.

Hangimizin boyu en kısadır?

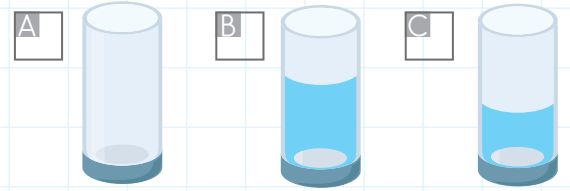
- A Ceren B Ben C Melih

3. Kepçe kullanarak hangisini daha çabuk doldururuz?

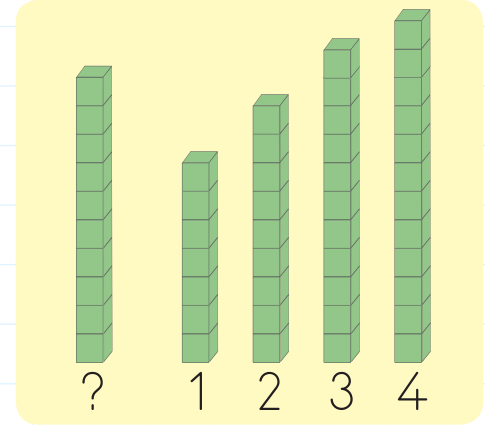


4. **Murat:** Bardaktaki sütün yarısını içtim.

Murat'ın söylediğine göre hangi bardak Murat'ın olabilir?



5.



Yukarıdaki küp blokları boy sırasına göre dizilmiştir. “?” ile gösterilen blok hangi rakamların arasında olmalıdır?




- A 1 ve 2 B 2 ve 3
- C 3 ve 4

2

Veri Toplama - Uzunluk Ölçme - Sıvı Ölçme

6. Bahçemizin uzun kenarı 20 adımdır. Bahçemizin kısa kenarı 9 adımdır. Uzun kenar kısa kenardan kaç adım fazladır?

A 11 B 12 C 15

Sebzeler	Öğrenci Sayısı
	8
	10
	6

7 ve 8. soruları tabloya göre cevaplayınız.

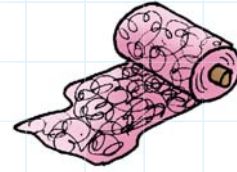
7. Tabloya göre hangisi doğrudur?

A Kabak sevenler, patlıcan sevenlerden fazladır.
 B En az sevilen sebze patlıcandır.
 C Patlıcan sevenler, karnabahar sevenlerden 2 kişi fazladır.

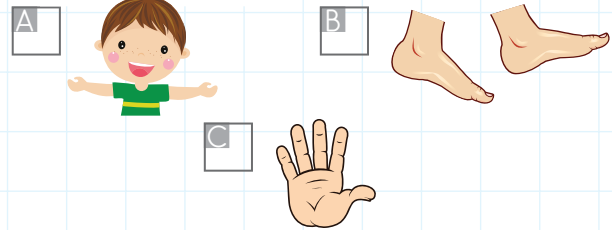
8. En çok sevilen sebze ile en az sevilen sebze arasındaki fark kaçtır?

A 2 B 4 C 5

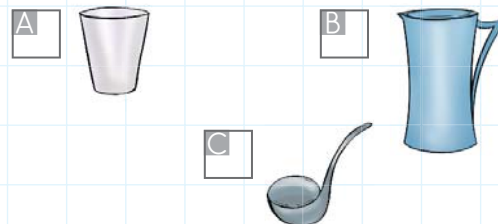
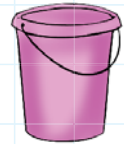
- 9.



Kumaşın uzunluğunu hangisiyle ölçmemiz en doğrudur?



10. Yandaki kovayı hangisi ile daha hızlı doldururuz?



1

Kendimi Güvende Tutuyorum

Tarih: ___/___/___

Puan:



1. Hangisini yapmak sorun **yaratmaz**? İşaretleyiniz.

- Bilmediğimiz kapalı alanlarda oynamak
- Bilmediğimiz şeylerin tadına bakmak
- İlaçlarımızı büyüklerimize sorarak içmek
- Oyun oynarken üstümüzü kirletmek.

2. Hangi öğrencinin davranışı tehlikelidir? İşaretleyiniz.

- Masamda kitap okurken, müzik dinliyorum.
- İnternette kuzenimle görüntülü konuştum.
- Arkadaşımla inşaat alanında oynadık.
- Evimizin bahçesinde bisiklete bindik.

3. Hangilerini uzun süre kullanmak göz sağlığımızı bozar? İşaretleyiniz.



4. Hangi bilgiler **yanlıştır**? İşaretleyiniz.

- Okul bizim için oyun yeridir.
- Kaldırımda yürürken büyüğümüzün elinden tutmalıyız.
- Karşıdan karşıya yayalara kırmızı ışık yanınca geçmeliyiz.
- Trafik polisinin işaretlerine uymalıyız.



● Aşağıdaki soruları cevaplayınız.



- Ülkemizin başkentini ♥ çiziniz.
- Hangi ilde yaşıyorsunuz? Yaşadığınız ili yazıp haritada ● içine alınız.
- Yaşadığınız ilde neler yetiştirilir?
- Yaşadığınız şehirde, turistik yerler nereleridir?

1

Ülkemi Tanıyorum

Tarih: ___/___/___

Puan: _____



- Tablodaki sözcükleri bulmacada bularak boyayınız. Boyanmayan harfleri en alttaki kutucuklara sırasıyla yazınız ve şifreyi çözünüz.

Türkiye'deki bazı iller:

Gaziantep, Van, Aydın, Edirne, Mardin

Türkiye'de yetiştirilen bazı tarım ürünleri:

Pamuk, fındık, şeftali, pirinç

Türkiye'deki bazı tarihî ve turistik yerler:

Çeşme, Anıtkabir, Truva, Safranbolu

Ş	A	N	I	T	K	A	B	İ	R
E	T	E	F	A	Y	D	I	N	M
F	R	D	I	P	A	M	U	K	A
T	U	İ	N	G	V	A	N	Ü	R
A	V	R	D	Z	E	L	Ü	L	D
L	A	N	I	Ç	E	Ş	M	E	İ
İ	K	E	K	E	M	T	Ü	R	N
K	G	A	Z	İ	A	N	T	E	P
İ	Y	E	P	İ	R	İ	N	Ç	M
S	A	F	R	A	N	B	O	L	U

ŞİFRE: ○○○○○○ ○○○○○○
○○○○○○○○

TEST 1 Ülkemizde Hayat

2

Adı: _____

Tarih: ___/___/___

Puan: _____



1. Hangi görselden “Kurtuluş Savaşı, Türk milletinin yardımlaşma ve dayanışması sayesinde kazanıldı.” sonucunu çıkarabiliriz?

A



B



C



2. Kurban Bayramı'nda hangisini yaparız?

A

Sınıfımızı süsleriz.

B

Yakınlarımızı ziyaret ederiz.

C

Okullarda gösteriler düzenleriz.

3. Hangi görsel için “Millî bayram kutlaması yapılıyor.” diyebiliriz?

A



B



C



4. Aşağıdaki bayramlardan hangisini 29 Ekim'de kutlarız?

A

Ulusal Egemenlik ve Çocuk Bayramı

B

Atatürk'ü Anma Gençlik ve Spor Bayramı

C

Cumhuriyet Bayramı

1

Çevremizdeki Hayvanlar

Tarih: ___/___/___

Puan: _____



● Aşağıdaki hayvanlar hangi gruba girer? Hayvanları bulmacanın ilgili bölümünden bularak boyayınız.

- İNEK
- AT
- ASLAN
- KANARYA
- ÖRDEK
- EŞEK
- KEÇİ
- KEDI
- KAPLAN
- MAYMUN
- FİL
- TİMSAH
- KOYUN
- TAVUK
- ZEBRA
- KURT
- KAZ
- YILAN
- KARTAL
- TAVŞAN
- ÇİTA
- KÖPEK

EVCİL HAYVANLAR VE ÇİFTLİK HAYVANLARI									
K	E	D	İ	O	K	O	Y	U	N
K	K	D	E	K	Ç	E	K	A	Z
A	Ö	A	T	Ö	İ	R	Ş	U	A
N	R	D	K	P	K	E	Ç	İ	Z
A	D	R	Ö	E	E	Ş	E	E	İ
R	E	Ö	E	K	Ç	İ	K	Ş	N
Y	K	T	A	V	U	K	Z	E	E
A	T	A	V	Ş	A	N	A	K	K

VAHŞİ HAYVANLAR									
K	A	S	L	A	N	K	A	R	T
U	A	Y	M	K	A	R	T	A	L
R	M	A	Y	M	U	N	K	H	T
T	U	N	İ	M	S	A	A	F	İ
Ç	T	İ	M	S	A	H	P	İ	L
İ	Y	Z	E	B	R	A	L	L	K
T	I	B	R	E	Z	H	A	İ	İ
A	L	Y	I	L	A	N	N	İ	L

● Yandaki çiftlikte hangi hayvanlar yaşamaktadır? Hayvanların isimlerini yaşadıkları yere göre tabloda uygun yerlere yazınız.



AHIR	AĞIL	GÖL	KÜMES	KULÜBE	TOPRAK ALTI

2

Mevsimler

Tarih: ___/___/___

Puan: _____



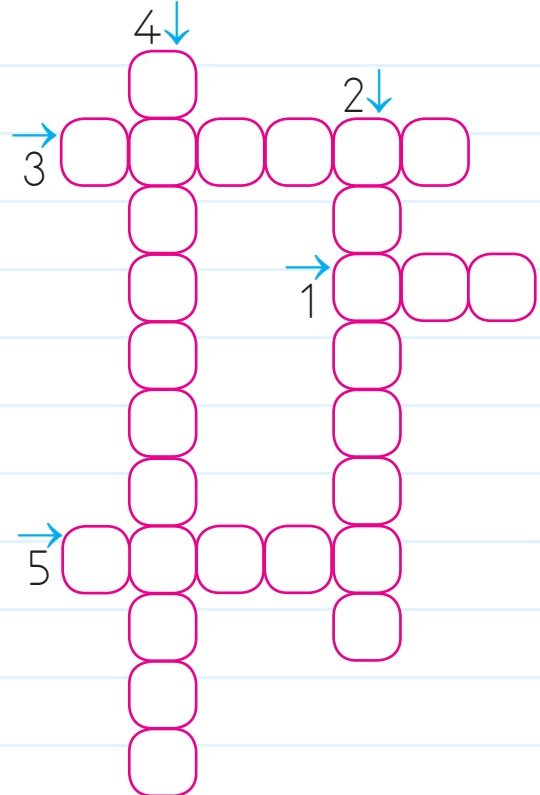
- Mevsimlere göre giydiğimiz kıyafetlerin ve eşyaların bulunduğu harfleri doğru kutulara yazınız.

İLKBAHAR	SONBAHAR
YAZ	KIŞ



- Aşağıdaki bulmacayı çözelim.

1. En soğuk mevsim
2. Havaların ısındığı, ağaçların çiçek açtığı mevsim
3. Yaz, kış, sonbahar ve ilkbaharın genel adı
4. Çevremizdeki cam, kâğıt, pil gibi atıkların dönüştürülerek tekrar kullanılacak hâle getirilmesi
5. Üzerinde yaşadığımız gezegen



TEST 2 Doğada Hayat

1

Adı: _____

Tarih: ___/___/___

Puan: _____



1. Doğada yaşayan, avlanarak beslenen ve insanlara alışmamış hayvanlara _____ denir.

Cümlede boş bırakılan yere aşağıdakilerden hangisi getirilmelidir?

- A Vahşi hayvan
 B Evcil hayvan
 C Sürüngen hayvan

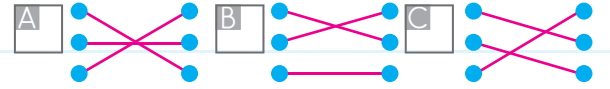
2. Bazı hayvanlar toprak altında barınabilir.

Buna göre aşağıdakilerden hangisi toprak altında **barınmaz**?

- A Yılan
 B Köstebek
 C Köpek

3. Yılan • Otçul ve etçil
 Tavuk • Etçil
 Koyun • Otçul

Hayvanları beslenme şekillerine göre eşleştirdiğimizde aşağıdaki şekillerden hangisi elde edilir?



4. Aşağıdakilerden hangisinde bitki ve hayvanları korumayla ilgili doğru bir davranış **yoktur**?

- A Ekin'in sokakta gördüğü bir kedinin başını okşaması
 B Pınar'ın parktaki çiçekleri koparması
 C Batu'nun kuşlara yem vermesi

2

Doğada Hayat

5.	Bitkiler zamanla büyür ve gelişirler.
	Bazı ağaçlar meyve vermez.
	Bütün ağaçlar kışın yapraklarını döker.

Verilen ifadelerden doğru olanlara "D", yanlış olanlara "Y" yazarsak tablonun görünümü nasıl olur?

<input type="checkbox"/>	D	<input type="checkbox"/>	D	<input type="checkbox"/>	Y
	D		Y		D
	Y		Y		D

6. Aşağıdaki ifadelerden hangisi **yanlıştır**?

- Balıklar göl, akarsu ve denizlerde yaşar.
- Kanarya evde beslenebilir.
- Zürafa evcil bir hayvandır.

7. • Soğuk havalar azalmaya başlar.
• Ağaçlar çiçek açmaya başlar.

Yukarıda verilen bilgiler hangi mevsime aittir?

- Yaz Sonbahar
 İlkbahar

8. ▲ Çevremizi kirletmemek, doğanın döngüsüne katkı sağlar.
★ Ne kadar çok plastik paketli ürün alırsak, o kadar çok çevreye katkı sağlarız.
■ Yiyecek atıkları ile kompost yapıp kendi sağlıklı toprağımızı yapmış oluruz.

Yukarıdaki ifadelerden yanlış olan hangi sembolle gösterilmiştir?

- ★ ▲ ■

TÜRKÇE YANIT ANAHTARI

	1	2	3	4	5	6	7	8	9	10	11	12	13
Test 1	A	C	A	A	C	B							
Test 2	B	A	B	C	B	C							
Test 3	B	A	C	B									
Test 4	A	A	C	B	C	B	C	B					
Test 5	B	C	A	C	C	A	C						
Test 6	B	C	A	A	C	B	A	A	A	C	C		

MATEMATİK YANIT ANAHTARI

	1	2	3	4	5	6	7	8	9	10	11	12	13
Test 1	B	A	A	C	C	B	C	B	A	A	A	B	
Test 2	B	C	C	C	A	B	C	B	C	B	A	B	
Test 3	B	C	A	C	B	A	B	B	A	B			

HAYAT BİLGİSİ YANIT ANAHTARI

	1	2	3	4	5	6	7	8	9	10	11	12	13
Test 1	C	B	A	C									
Test 2	A	C	B	B	A	C	C	A					





Akıllı Tahta Uygulamasını "e-mutlu.com" dan İndirebilirsiniz

www.e-mutlu.com

0850 800 32 14



Avcı Serisi
8 Kitap



MUTLU YAYINCILIK

Yakuplu Mah. 228. Sk. Ata İş Merkezi Nu.: 14 Kat: 2

Beylikdüzü / İSTANBUL